

TOÁN



KẾT NỐI TRI THỨC
VỚI CUỘC SỐNG

TÌM HAI SỐ BIẾT TỔNG VÀ HIỆU CỦA HAI SỐ ĐÓ

(Tiết 2)



KHỈ CON HẢI ĐÀO





Số lớn là 10, số bé ít hơn
số lớn 4 đơn vị. Tính tổng
của hai số?

Tổng hai số là: 16





**Cả hai bạn cao 250 cm.
Bạn Hải cao hơn bạn Hà
10 cm. Hỏi bạn Hà cao
mấy xăng-ti-mét?**

Bạn Hà cao 120 cm.





Long và Nam có tất cả 35 viên bi. Số bi của Long nhiều hơn 5 viên so với số bi của Nam. Hỏi mỗi bạn có bao nhiêu viên bi?

Long có 20 viên bi, Nam có 15 viên vi

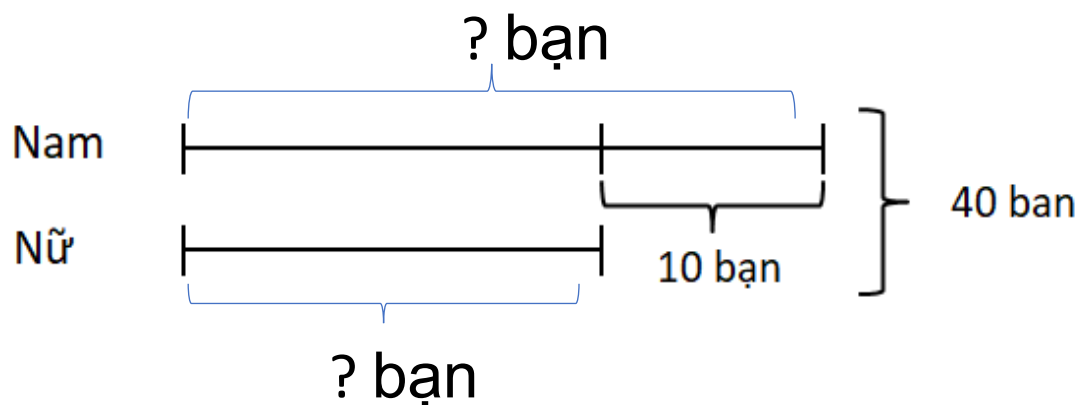


Luyện tập

Bài toán 1

Một lớp học võ dân tộc có 40 bạn tham gia, trong đó số bạn nữ ít hơn số bạn nam là 10 bạn. Hỏi lớp học võ đó có bao nhiêu bạn nữ, bao nhiêu bạn nam?

Tóm tắt:



Bài giải

Lớp học võ đó có số bạn nữ là:

$$(40 - 10) : 2 = 15 \text{ (bạn)}$$

Lớp học võ đó có số bạn nam là:

$$40 - 15 = 25 \text{ (bạn)}$$

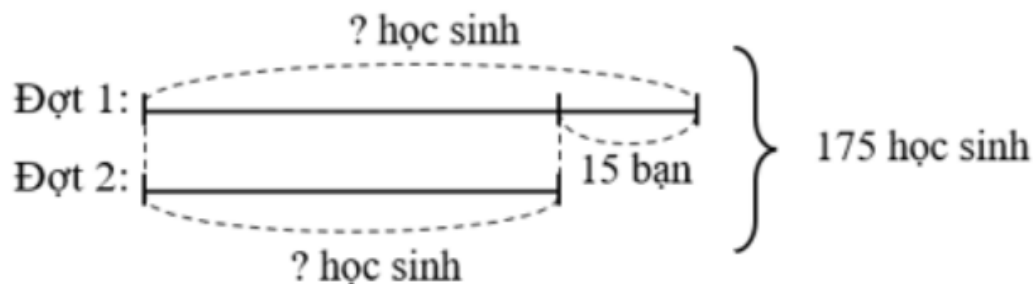
Đáp số: 25 bạn nam

15 bạn nữ

Bài toán 2

Khối lớp Bốn tổ chức hai đợt cho 175 học sinh đi tham quan các làng nghề truyền thống, đợt thứ nhất nhiều hơn đợt thứ hai 15 bạn. Hỏi mỗi đợt có bao nhiêu học sinh đi tham quan làng nghề truyền thống.

Tóm tắt:



Bài giải:

Số học sinh đợt 2 là:
 $(175 - 15) : 2 = 80$ (bạn)

Số học sinh đợt 1 là:
 $175 - 80 = 95$ (bạn)

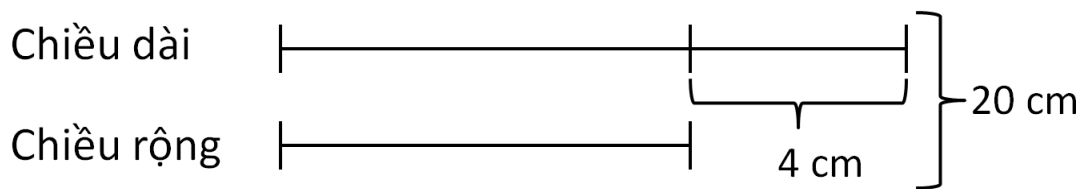
Đáp số: Đợt 2: 80 bạn
Đợt 1: 95 bạn

Bài toán 3

Một hình chữ nhật có chu vi là 40 cm và chiều dài hơn chiều rộng 4 cm. Tìm chiều dài, chiều rộng của hình chữ nhật đó.

Tổng chiều dài và chiều rộng (nửa chu vi) của hình chữ nhật là:
 $40 : 2 = 20 \text{ (cm)}$

Tóm tắt:



Chiều dài hình chữ nhật là:
 $(20 + 4) : 2 = 12 \text{ (cm)}$
Chiều rộng hình chữ nhật là:
 $20 - 12 = 8 \text{ (cm)}$
**Đáp số: Chiều dài: 12 cm,
Chiều rộng: 8 cm.**

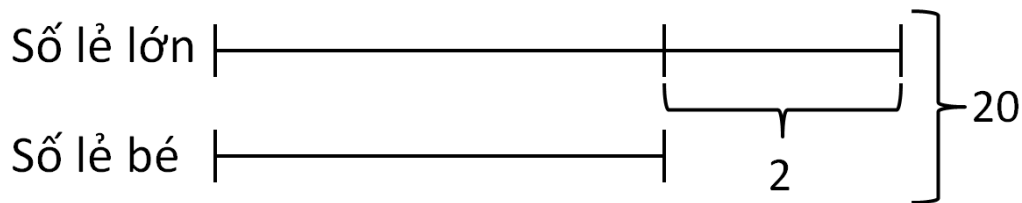


Bài toán 4

Hai số lẻ liên tiếp có tổng là 20. Tìm hai số lẻ liên tiếp đó.

Hiệu của hai số lẻ liên tiếp là 2

Tóm tắt:



Bài giải


số lớn là:

$$(20 + 2) : 2 = 11$$


Số bé là:

$$20 - 11 = 9$$

Đáp số: 11 và 9.




Văn dụng



HÁI TÁO






(Tổng + Hiệu) : 2 =


Blank space for the answer.

next




Số lớn = Tổng - ...

Blank boxes for the answer.



Số bé = Tổng -

next



Số bé

Số lớn

5351

59

4309

95

872

42

12

64

86

(Tổng - Hiệu) : 2 =



Chúc các em
học tốt!